

ریاضی دوم دبستان - طراحی ، عدد و شمارش - ۱ سوال -

۳- چند عدد دو رقمی وجود دارد که رقم یکان و دهگان آن مساوی است؟

۸ (۴)

۱۱ (۳)

۱۰ (۲)

۹ (۱)

آزمون ۴ آبان

ریاضی دوم دبستان - طراحی ، دسته های ده تایی و یکی - ۱ سوال -

۲- ۴ یکی و ۲ ده تایی می شود چندتا؟

۲۴ (۴)

۲۲ (۳)

۴۴ (۲)

۴۲ (۱)

آزمون ۴ آبان

ریاضی دوم دبستان - طراحی ، حل مسئله - ۱ سوال -

۱- در کارتنی ۲۸ هلو و سیب قرار دارد. ۱۵ تا از میوه ها سیب و بقیه هلو هستند. در کارتن چند هلو قرار دارد؟

۱۴ (۴)

۱۱ (۳)

۱۲ (۲)

۱۳ (۱)

آزمون ۴ آبان

ریاضی دوم دبستان - طراحی ، رسم شکل - ۱ سوال -

۵- ۹ ماهی در آب در حال شنا کردن هستند. ۸ ماهی دیگر به آنها اضافه می شود، چند ماهی در آب در حال شنا

کردن هستند؟

۱۷ (۴)

۱۸ (۳)

۱۹ (۲)

۱۵ (۱)

آزمون ۴ آبان

ریاضی دوم دبستان - طراحی ، جمع و تفریق - ۴ سوال -

$$30 + 5 + 10 + 40 + 5 + 7 = ?$$

۶- حاصل عبارت روبه‌رو کدام است؟

۹۵ (۴)

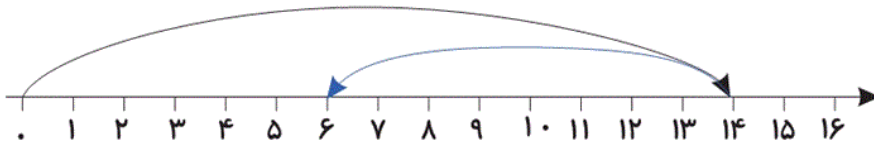
۷۸ (۳)

۸۷ (۲)

۹۷ (۱)

آزمون ۴ آبان

۷- محور زیر مربوط به کدام عبارت است؟



$14 - 8$ (۲)

$14 + 6$ (۱)

$14 - 9$ (۴)

$14 - 6$ (۳)

آزمون ۴ آبان

۴- پریا ۳۹ تا مداد دارد. ۲۵ تا از آن‌ها رنگی و بقیه سیاه هستند. او چند مداد سیاه دارد؟

۱۴ (۴)

۱۱ (۳)

۱۲ (۲)

۱۳ (۱)

آزمون ۴ آبان

۹- در اتوبوسی ۸ مسافر نشسته بودند. در ایستگاه ۱۰ مسافر دیگر سوار شدند و ۵ مسافر از اتوبوس پیاده شدند،

حالا در اتوبوس چند نفر نشسته است؟

۱۸ (۴)

۱۵ (۳)


۱۲ (۲)

۱۳ (۱)

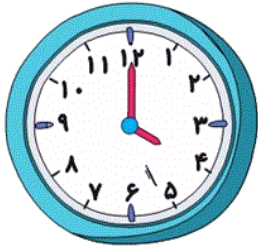
آزمون ۴ آبان

ریاضی دوم دبستان - طراحی ، مرور فصل - ۲ سوال -

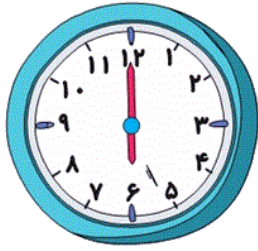
۱۰- طبق الگوی زیر ساعت پنجم چند است؟



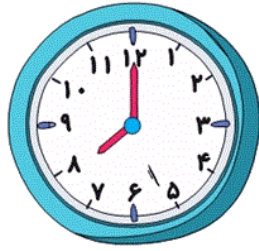
(۱)



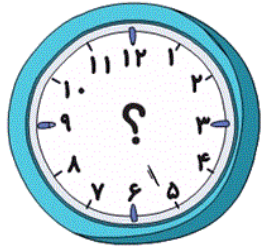
(۲)



(۳)



(۴)



(۵)

۱۲ (۴)

۱۰ (۳)

۹ (۲)

۸ (۱)



آزمون ۴ آبان

۸- به ترتیب در شمارش ۶ تا ۶ تا عدد بعد از ۴۲ و ۲۴ چند خواهد بود؟

۳۰ - ۴۸ (۴)

۳۰ - ۵۴ (۳)

۲۵ - ۴۳ (۲)

۱۸ - ۵۲ (۱)

آزمون ۴ آبان